

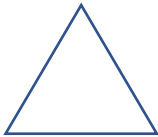






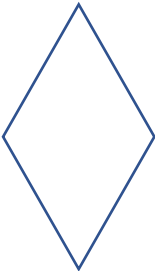



基本圖形繪圖練習表

第一頁(共兩頁)

說明	範例：長度 2 公分的線段	半徑 1 公分的圓	邊長 2 公分的正三角形	兩腰長 2.5 公分、底為 1.5 公分的等腰三角形
原圖形	範例： 			
說明	範例：請畫出長度 6 公分的線段	請畫出半徑 3 公分的圓	邊長 4 公分的正三角形	兩腰長 5 公分、底為 3 公分的等腰三角形
新圖形	範例： 			
兩者關係	範例： 線段放大 3 倍	半徑放大_____倍	邊長放大_____倍 角度(改變、不改變)請圈選	邊長放大_____倍 角度(改變、不改變)請圈選

第二頁(共兩頁)

說明	邊長 2 公分的正方形	長 2 公分、寬 1 公分的長方形	邊長 2 公分的菱形	班級：
原圖形				姓名：
說明	邊長 4 公分的正方形	長 6 公分、寬 3 公分的長方形	邊長 4 公分的菱形	
新圖形				<p style="text-align: center;">到世界去旅行</p> 
兩者關係	邊長放大_____倍 角度(改變、不改變) <input type="checkbox"/> 請圈選	邊長放大_____倍 角度(改變、不改變) <input type="checkbox"/> 請圈選	邊長放大_____倍 角度(改變、不改變) <input type="checkbox"/> 請圈選	