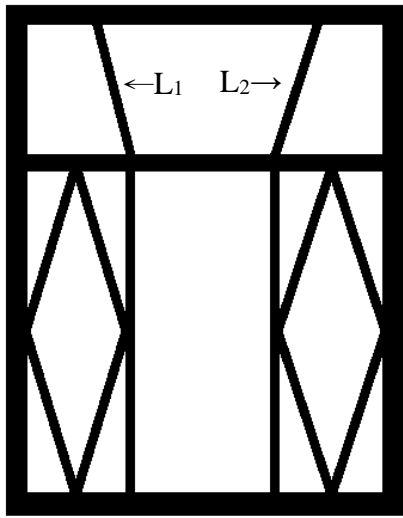


框框平不平行

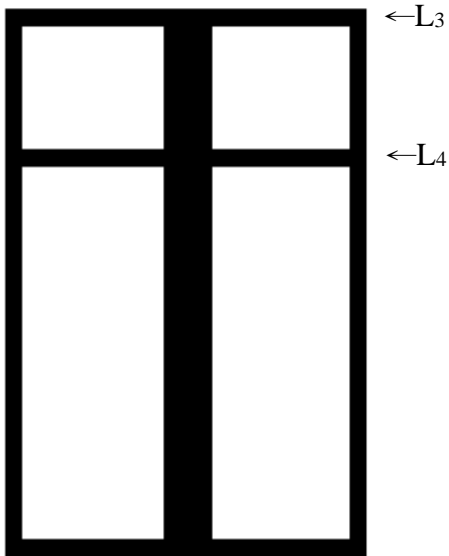
___年___班___號 姓名_____

小禎喜歡拍攝不一樣的窗框，請你判斷下列窗框中的線條是否平行？並說明你的理由。



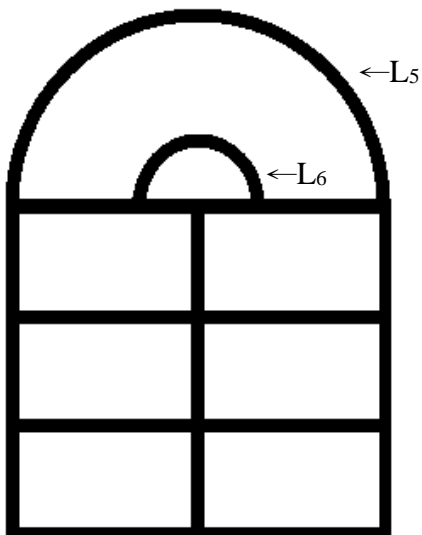
1. (1)左圖中 L₁ 和 L₂ 的線條是否平行？
 平行 不平行

(2)請說明你的理由：



2. (1) 左圖中 L₃ 和 L₄ 的線條是否平行？
 平行 不平行

(2)請說明你的理由：



3. (1) 左圖中 L₅ 和 L₆ 的線條是否平行？
 平行 不平行

(2)請說明你的理由：

4. 妳如何判斷兩條直線平行？請完成下列敘述。

如果_____，兩直線「平行」。

如果_____，兩直線「不平行」。

5. 兩條平行的直線有哪些性質呢？

